



第五单元测试卷



数学(JJ)三年级(上)

时间: 60 分钟

满分: 100 分

题号	一	二	三	四	五	六	总分
得分							



轻松练基础

一、填空。(20 分)

1. 在一个算式里,既有加减法,又有乘除法,要先算()法,后算()法;有小括号的算式,要先算()里面的。
2. $72 \times 3 - 69 \div 3$ 要先算()法和()法,再算()法。
3. $38 \times (27 - 24)$ 要先算()法,再算()法。
4. 把下面每组算式写成一算式,并计算。
(1) $73 + 21 = 94$ $94 \times 3 = ()$ 综合算式: ()
(2) $53 - 44 = 9$ $81 \div 9 = ()$ 综合算式: ()
5. 学校买来 6 盒羽毛球,每盒 12 个,用去了 32 个,还剩()个。
6. 丰丰家收苹果 40 筐,收梨 23 筐,如果每次运走 9 筐,()次能运完。
7. 看一本 76 页的书,已经看了 3 天,还剩 16 页没看,平均每天看()页。
8. 学校栽了 6 行杨树,每行 15 棵,栽的柳树比杨树多 40 棵,栽了()棵柳树。
9. 学校买来 54 本科技书,其中 9 本给老师用。把剩下的书平均分给 5 个班,每班分到()本。
10. 一把椅子的价钱是 25 元,一张桌子的价钱是一把椅子的 3 倍,一张桌子()元,买 8 把椅子和 2 张桌子共()元。
11. 如果要改变运算顺序,就要使用()。



二、判断。(对的打“√”,错的打“×”)(5分)

1. 在计算 $29 \times 3 + 32$ 中,最后一步是求积。 ()
2. 求 96 减 32 除以 4 的商,列式为 $(96 - 32) \div 4$ ()
3. $32 \times (4 - 3) = 32 \times 4 - 32 \times 3$ ()
4. $9 + 15 \times 3$ 和 $15 \times 3 + 9$ 的计算结果一样。 ()
5. 在一个算式里,如果没有小括号,就要按从左到右的顺序计算。 ()

三、选择题。(把正确的序号填在括号里)(5分)

1. 91 减去 75 的差的 3 倍,列式是()。
A. $91 - 75 \div 3$ B. $91 - 75 \times 3$
C. $(91 - 75) \div 3$ D. $(91 - 75) \times 3$
2. 把 $34 \times 7 = 238$, $238 - 42 = 196$, $84 \div 2 = 42$ 三个算式组成一个综合算式是()。
A. $34 \times 7 - 84 \div 2$ B. $34 \times 7 - 42$
C. $238 - 84 \div 2$ D. $238 - 42$
3. 64 减去 24 的差,除以 4,商是多少? 列式为()。
A. $64 - 24 \div 4$ B. $(64 - 24) \div 4$
C. $64 + 24 \div 4$ D. $(64 + 24) \div 4$
4. 小林买了 24 个梨,48 个桃,把这两种水果每 8 个装一盘,求一共可装多少盘。列式是()。
A. $24 + 48 \div 8$ B. $24 \div 8 + 48$
C. $(24 + 48) \div 8$ D. $24 + 48 \div 8$

四、计算。(30分)

1. 把下面算式写成一个算式并计算。(4分)

(1) $268 - 76 = 192$

(2) $35 + 36 = 71$

$192 \div 4 = \square$

$5 \times 71 = \square$

2. 直接写出得数。(8分)

$23 \times 4 =$

$63 \div 9 =$

$179 \times 0 =$

$80 - 40 \times 2 =$

$130 + 58 =$

$200 - 14 =$

$90 \div 9 =$

$45 \times (20 - 12) =$



3. 脱式计算。(18 分)

$$(127 - 56) \times 3$$

$$(52 + 29) \div 9$$

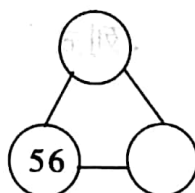
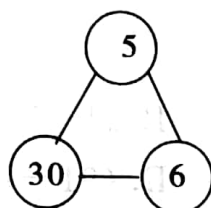
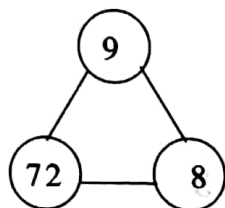
$$38 \times 7 - 24 \times 4$$

$$165 - (42 + 58)$$

$$73 \times 12 \div 6$$



$$45 \times (63 \div 9)$$


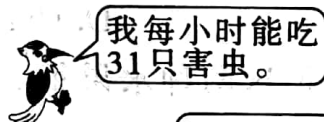
五、找规律填空。(4 分)



快乐提能力

六、解决问题。(36 分)

1.  和  8 小时一共能吃多少只害虫?



2. 一个机器人比一个布娃娃贵多少钱?



78 元



96 元



3. 工人叔叔在 3 天内要做 318 个零件,第一天做了 120 个,后两天平均每天要做多少个才能完成? (5 分)

4. (8 分)



96元



78元

(1) 2 辆玩具汽车比 1 个布娃娃贵多少钱?

(2) 妈妈带了 270 元,能买 2 辆玩具汽车和 1 个布娃娃吗?

5. (9 分)



76元



22元



8元

(1) 买 2 件上衣比买 4 条裙子多花多少钱?

(2) 上衣和裙子各买 2 件,200 元够吗?

(3) 买 4 条裙子的钱,如果买帽子,能买几顶?

6. 同学们跳绳,小青跳了 45 下,小华跳的下数是小青的 3 倍。(6 分)

(1) 小华比小青多跳了多少下?

(2) 小华和小青一共跳了多少下?

